

ПРОФЕССИОНАЛЬНАЯ ОБРАЗОВАТЕЛЬНАЯ ОРГАНИЗАЦИЯ  
АВТОНОМНАЯ НЕКОММЕРЧЕСКАЯ ОРГАНИЗАЦИЯ  
«КОЛЛЕДЖ КУЛЬТУРЫ И СПОРТА»

**КОМПЛЕКТ КОНТРОЛЬНО-ИЗМЕРИТЕЛЬНЫХ  
МАТЕРИАЛОВ ДЛЯ РУБЕЖНОГО КОНТРОЛЯ**

**ОП.12 Организация и безопасность дорожного движения**

Специальность: 08.02.02 Строительство и эксплуатация  
инженерных сооружений

Москва, 2024

## 1. ОБЩИЕ ПОЛОЖЕНИЯ

**1.1** Контрольно-измерительные материалы (далее - КИМ) предназначены для изучения и получения достоверной и объективной информации об уровне освоения обучающимися знаний и умений, сформированности общих и профессиональных компетенций по пройденным разделам учебной дисциплины ОП.012 Организация и безопасность дорожного движения, сертификация по специальности 08.02.02 Строительство и эксплуатация инженерных сооружений, и включают контрольно-измерительные материалы для проведения рубежного контроля.

**1.1.1** Техник должен обладать общими и профессиональными компетенциями, включающими в себя способность:

ОК 01	Выбирать способы решения задач профессиональной деятельности применительно к различным контекстам
ОК 02	Осуществлять поиск, анализ и интерпретацию информации, необходимой для выполнения задач профессиональной деятельности
ОК 03	Планировать и реализовывать собственное профессиональное и личностное развитие
ОК 04	Работать в коллективе и команде, эффективно взаимодействовать с коллегами, руководством, клиентами
ОК 05	Осуществлять устную и письменную коммуникацию на государственном языке Российской Федерации с учетом особенностей социального и культурного контекста
ОК 06	Проявлять гражданско-патриотическую позицию, демонстрировать осознанное поведение на основе общечеловеческих ценностей
ОК 07	Содействовать сохранению окружающей среды, ресурсосбережению, эффективно действовать в чрезвычайных ситуациях
ОК 08	Использовать средства физической культуры для сохранения и укрепления здоровья в процессе профессиональной деятельности и поддержания необходимого уровня физической подготовленности
ОК 09	Использовать информационные технологии в профессиональной деятельности
ОК 10	Пользоваться профессиональной документацией на государственном и иностранном языках
ОК 11	Использовать знания по финансовой грамотности, планировать предпринимательскую деятельность в профессиональной сфере
ПК 2.1.	Участвовать в разработке проекта организации строительства и составления технологических решений инженерных сооружений
ПК 2.2.	Организовывать и контролировать производство однотипных работ при строительстве и эксплуатации инженерных сооружений
ПК 2.3.	Участвовать в строительных и организационно-производственных мероприятиях по эксплуатации инженерных сооружений
ПК 2.4.	Обеспечивать рациональное использование строительных машин, механизмов, транспортных средств на участке (объекте)
ПК 3.2.	Организовывать и контролировать работы по производственно-техническому и технологическому обеспечению строительного производства при возведении инженерных сооружений.
ПК 4.1.	Обеспечивать строительное производство строительными материалами, изделиями, оборудованием, инструментами, вспомогательными расходными материалами и защитными средствами, требуемыми для охраны труда

**1.1.2.** В результате изучения учебной дисциплины ОП.12 Организация и безопасность дорожного движения обучающийся должен:

**знать:**

- правила дорожного движения;
- обязанности должностных лиц по обеспечению безопасности дорожного движения;
- ответственность за нарушение ПДД;
- психологические основы труда водителей;
- безопасности конструкции транспортного средства;
- причины дорожно-транспортных происшествий;
- законодательство в сфере дорожного движения;
- организацию работ по обеспечению безопасности движения.
- характеристики дорожного движения;
- группы факторов, влияющих на безопасность движения;
- структуру деятельности по обеспечению безопасности дорожного движения;
- задачи организации дорожного движения;
- проблемы безопасности движения в рамках учебной дисциплины, рассматривая систему «водитель-автомобиль-дорога-среда».

**уметь:**

- обеспечивать безопасность движения транспортных средств;
- организовывать работы по обеспечению безопасности движения в местах проведения дорожных и ремонтных работ;
- осуществлять комплекс инженерных и организационных мероприятий на существующей улично-дорожной сети с целью обеспечения безопасности и достаточной скорости транспортных и пешеходных потоков;
- организовывать безопасность движения и решать профессиональные задачи посредством применения нормативно-правовых документов

**1.1.3.** Задания для проведения «срезы знаний» составлены на основе рабочей программы учебной дисциплины и охватывают ее наиболее актуальные разделы и темы.

Контрольный срез знаний проводится в форме комплексного теста по дисциплине.




Перечень вопросов по разделам и темам, выносимым на зачёт, разработан специалистами Научно-исследовательского центра безопасности дорожного движения МВД России, утверждён Главным государственным инспектором безопасности дорожного движения Российской Федерации и используется при приёме теоретического экзамена в подразделениях ГИБДД.

Контрольно-измерительные материалы целостно отражают объем проверяемых теоретических знаний и практических умений.

**1.2.** В критерии оценки уровня подготовки обучающегося входят:

- ✓ уровень освоения обучающимся материала, предусмотренного учебной программой по дисциплине;
  - ✓ умения обучающегося использовать теоретические знания при выполнении практических задач;
  - ✓ обоснованность, четкость, краткость изложения ответа.
- Уровень подготовки обучающегося оценивается в баллах:
- ✓ 5 (отлично);
  - ✓ 4 (хорошо);
  - ✓ 3 (удовлетворительно);
  - ✓ 2 (неудовлетворительно).

## II. ВОПРОСЫ ДЛЯ ПРОВЕДЕНИЯ «СРЕЗА» ЗНАНИЙ





№ п/п	<u>ВАРИАНТ 1</u>	
1	<p><b>Какие транспортные средства по Правилам относятся к маршрутным транспортным средствам?</b></p> <ol style="list-style-type: none"> <li>1. Все автобусы.</li> <li>2. Автобусы, троллейбусы и трамваи, предназначенные для перевозки людей и движущиеся по установленному маршруту с обозначенными местами остановок.</li> <li>3. Любые транспортные средства, перевозящие пассажиров.</li> </ol>	
2		<p><b>В каких направлениях Вам разрешено продолжить движение?</b></p> <ol style="list-style-type: none"> <li>1. Только Б.</li> <li>2. Только А или Б.</li> <li>3. В любых.</li> </ol>
3		<p><b>В каких направлениях Вам разрешено продолжить движение на перекрестке?</b></p> <ol style="list-style-type: none"> <li>1. Только направо.</li> <li>2. Только прямо или направо.</li> <li>3. Прямо, направо и в обратном направлении.</li> </ol>
4		<p><b>Этот знак разрешает Вам ставить на стоянку легковой автомобиль с использованием тротуара:</b></p> <ol style="list-style-type: none"> <li>1. Только на правой стороне дороги до ближайшего по ходу движения перекрестка.</li> <li>2. Только на правой стороне дороги до знака «Конец зоны регулируемой стоянки».</li> <li>3. На любой стороне дорог, расположенных в зоне регулируемой стоянки.</li> </ol>

5








**Эта разметка, нанесенная на полосу движения:**





1. Предоставляет Вам преимущество при перестроении на правую полосу.
2. Информировывает Вас о том, что дорога поворачивает направо.
3. Предупреждает Вас о приближении к сужению проезжей части






6	<p><b>Что означает мигание зеленого сигнала светофора?</b></p> <ol style="list-style-type: none"> <li>1. Предупреждает о неисправности светофора.</li> <li>2. Разрешает движение и информирует о том, что вскоре будет включен запрещающий сигнал.</li> <li>3. Запрещает дальнейшее движение.</li> </ol>	
7		<p><b>Обязаны ли Вы в данной ситуации подать сигнал правого поворота?</b></p> <ol style="list-style-type: none"> <li>1. Да.</li> <li>2. Да, но только при наличии движущихся сзади транспортных средств.</li> <li>3. Нет.</li> </ol>
8		<p><b>Кто должен уступить дорогу при одновременном перестроении?</b></p> <ol style="list-style-type: none"> <li>1. Водитель легкового автомобиля.</li> <li>2. Водитель мотоцикла</li> </ol>
9		<p><b>По какой траектории Вам разрешено выполнить разворот?</b></p> <ol style="list-style-type: none"> <li>1. Только по А.</li> <li>2. Только по Б.</li> <li>3. По любой.</li> </ol>
10		<p><b>С какой скоростью Вы можете продолжить движение вне населенного пункта по левой полосе на легковом</b></p>

		<b>автомобиле?</b> 1. Не более 50 км/ч. 1. Не менее 50 км/ч. и не более 70 км/ч. 2. Не менее 50 км/ч не более 90 км/ч.
--	--	--


11		<p><b>Разрешено ли Вам обогнать мотоциклиста?</b></p> <ol style="list-style-type: none"> <li>1. Разрешено.</li> <li>2. Запрещено.</li> </ol>
12		<p><b>Нарушил ли водитель грузового автомобиля с разрешенной максимальной массой более 3,5 т правила стоянки в данной ситуации?</b></p> <ol style="list-style-type: none"> <li>1. Да.</li> <li>2. Нет.</li> </ol>
13		<p><b>Вы намерены повернуть налево. Кому следует уступить дорогу?</b></p> <ol style="list-style-type: none"> <li>1. Только пешеходам.</li> <li>2. Только автобусу.</li> <li>3. Автобусу и пешеходам.</li> <li>4. Никому.</li> </ol>
14		<p><b>Вы намерены повернуть налево. Ваши действия?</b></p> <ol style="list-style-type: none"> <li>1. Проедете перекресток первым.</li> <li>2. Уступите дорогу автомобилю.</li> </ol>
15		<p><b>Обязан ли мотоциклист уступить Вам дорогу в данной ситуации?</b></p> <ol style="list-style-type: none"> <li>1. Да.</li> <li>2. Нет.</li> </ol>







16	<p>При движении вне населенных пунктов на автомобиле, оборудованном ремнями безопасности, пристегиваться ремнями должны:</p> <ol style="list-style-type: none"> <li>1. Только водитель.</li> <li>2. Только водитель и пассажир на переднем сиденье.</li> <li>3. Все лица, находящиеся в автомобиле.</li> </ol>	
17		<p>Можете ли Вы въехать на мост первым?</p> <ol style="list-style-type: none"> <li>1. Да.</li> <li>2. Нет.</li> </ol>
18		<p>С какой максимальной скоростью Вы можете продолжить движение на грузовом автомобиле с разрешенной максимальной массой не более 3,5 т?</p> <ol style="list-style-type: none"> <li>1. 60 км/ч.</li> <li>2. 70 км/ч.</li> <li>3. 80 км/ч.</li> </ol>
19		<p>Что запрещено в зоне действия этого знака?</p> <ol style="list-style-type: none"> <li>1. Движение со скоростью более 20 км/ч.</li> <li>2. Движение только механических транспортных средств.</li> <li>3. Движение любых транспортных средств.</li> </ol>
20		<p>Разрешен ли Вам обгон если реверсивные светофоры отключены?</p> <ol style="list-style-type: none"> <li>1. Разрешен.</li> <li>2. Разрешен, если скорость автобуса менее 30 км/ч.</li> <li>3. Не разрешен.</li> </ol>





21		<p><b>По какой траектории водитель легкового автомобиля может выполнить опережение?</b></p> <ol style="list-style-type: none"> <li>1. По любой.</li> <li>2. Только по А.</li> <li>3. Только по Б.</li> </ol>
22		<p><b>Разрешено ли водителю поставить автомобиль на стоянку в указанном месте?</b></p> <ol style="list-style-type: none"> <li>1. Да.</li> <li>2. Нет.</li> </ol>
23	 	<p><b>Вы намерены повернуть направо. Следует ли уступить дорогу автобусу?</b></p> <ol style="list-style-type: none"> <li>1. Да.</li> <li>2. Нет.</li> </ol>
24		<p><b>Вы намерены проехать перекресток в прямом направлении. Ваши действия?</b></p> <ol style="list-style-type: none"> <li>1. Уступите дорогу легковому автомобилю, поскольку он первым въехал на перекресток.</li> <li>2. Убедитесь,</li> </ol>

		что легковой автомобиль уступает дорогу, и проедете перекресток первым.
25		<p><b>Вы намерены повернуть налево. Кому следует уступить дорогу?</b></p> <ol style="list-style-type: none"> <li>1. Только автобусу.</li> <li>2. Только легковому автомобилю.</li> <li>3. Никому.</li> </ol>






6		<p><b>В данной ситуации Вы:</b></p> <ol style="list-style-type: none"> <li>1. Должны уступить дорогу автобусу, начинающему движение от обозначенного места остановки.</li> <li>2. Имеете преимущество, так как водитель автобуса начинает движение с выездом на вторую полосу.</li> </ol>
27	<p><b>В каких из перечисленных случаев запрещена буксировка на гибкой сцепке?</b></p> <ol style="list-style-type: none"> <li>1. Только на горных дорогах.</li> <li>2. Только в гололедицу.</li> <li>3. Только в темное время суток и в условиях недостаточной видимости.</li> <li>4. Во всех перечисленных случаях.</li> </ol>	
28	<p><b>Какая наименьшая величина остаточной высоты рисунка протектора допускается при эксплуатации мотоцикла?</b></p> <ol style="list-style-type: none"> <li>1. 0,8 мм.</li> <li>2. 1,0 мм.</li> <li>3. 1,6 мм.</li> <li>4. 2,0 мм.</li> </ol>	
29	<p><b>Что подразумевается под остановочным путем?</b></p> <ol style="list-style-type: none"> <li>1. Расстояние, пройденное транспортным средством с момента обнаружения водителем опасности до полной остановки.</li> <li>2. Расстояние, пройденное транспортным средством с момента начала срабатывания тормозного привода до полной остановки.</li> <li>3. Расстояние, соответствующее тормозному пути, определенному технической характеристикой данного транспортного средства.</li> </ol>	
30	<p><b>Что подразумевается под временем реакции водителя?</b></p> <ol style="list-style-type: none"> <li>1. Время с момента обнаружения водителем опасности до полной остановки транспортного средства.</li> </ol>	

- |  |   |
|--|---|
|  | <ol style="list-style-type: none"><li>2. Время с момента обнаружения водителем опасности до начала принятия мер по ее избежанию.</li><li>3. Время, необходимое для переноса ноги с педали подачи топлива на педаль тормоза.</li></ol> |
|--|---|




№ п/п	<b>ВАРИАНТ 2</b>		
1		<p><b>Выезжая с грунтовой дороги, Вы попадете:</b></p> <ol style="list-style-type: none"> <li>1. На главную дорогу.</li> <li>2. На равнозначную дорогу.</li> </ol>	
2		<p><b>В каком месте Вы должны остановиться?</b></p> <ol style="list-style-type: none"> <li>1. У знака А.</li> <li>2. У границы перекрестка Б.</li> <li>3. У края пересекаемой проезжей части В.</li> </ol>	
3		<p><b>В каком случае Вам необходимо двигаться со скоростью до 40 км/ч?</b></p> <ol style="list-style-type: none"> <li>1. Во всех случаях.</li> <li>2. Только в том случае, когда покрытие на дороге влажное.</li> </ol>	
4		<p><b>Какие из знаков устанавливают в начале дороги с односторонним движением?</b></p> <ol style="list-style-type: none"> <li>1. Только А.</li> <li>2. Только Б.</li> <li>3. Б или Г.</li> <li>4. Б или В.</li> </ol>	





5		<p><b>Можете ли Вы остановиться в этом месте для посадки или высадки пассажиров?</b></p> <ol style="list-style-type: none"> <li>1. Да</li> <li>2. Да, если Вы не создадите помех движению маршрутных транспортных средств.</li> <li>3. Нет.</li> </ol>
6		<p><b>В каких направлениях может продолжить движение водитель автомобиля с включенным проблесковым маячком?</b></p> <ol style="list-style-type: none"> <li>1. Только направо.</li> <li>2. Только прямо или направо.</li> <li>3. В любом.</li> </ol>
7	<p><b>В каких случаях Вы не должны подавать предупредительный сигнал указателями поворота?</b></p> <ol style="list-style-type: none"> <li>1. Только при отсутствии на дороге других участников движения.</li> <li>2. Только если сигнал может ввести в заблуждение других участников движения.</li> <li>3. В обоих перечисленных случаях.</li> </ol>	
8		<p><b>По какой траектории Вы можете выполнить правый поворот?</b></p> <ol style="list-style-type: none"> <li>1. Только по А.</li> <li>2. Только по Б.</li> <li>3. По любой.</li> </ol>
9		<p><b>Разрешено ли Вам таким образом выполнить разворот на перекрестке?</b></p> <ol style="list-style-type: none"> <li>1. Да.</li> <li>2. Нет.</li> </ol>

<b>10</b>		<b>По какой полосе Вам разрешено движение в данной ситуации?</b> 1. По любой. 2. Только по правой.
<b>11</b>	<b>В каком случае Вы можете начать обгон?</b> 1. Только если полоса встречного движения свободна на достаточном для обгона расстоянии. 2. Только если Вас никто не обгоняет. 3. В случае, если выполнены оба условия.	

12		<p><b>Разрешена ли Вам остановка для посадки пассажира в этом месте?</b></p> <ol style="list-style-type: none"> <li>1. Разрешена.</li> <li>2. Разрешена, если при этом не будет создано помех для движения маршрутных транспортных средств.</li> <li>3. Запрещена.</li> </ol>
13		<p><b>При движении прямо Вы:</b></p> <ol style="list-style-type: none"> <li>1. Должны остановиться перед стоп-линией.</li> <li>2. Можете продолжить движение через перекресток без остановки.</li> <li>3. Должны уступить дорогу транспортным средствам, движущимся с других направлений.</li> </ol>
14		<p><b>Вы намерены повернуть направо. Ваши действия?</b></p> <ol style="list-style-type: none"> <li>1. Проедете перекресток первым.</li> <li>2. Уступите дорогу легковому автомобилю.</li> </ol>
15		<p><b>Вы намерены повернуть налево. Кому следует уступить дорогу?</b></p> <ol style="list-style-type: none"> <li>1. Трамваю А и легковому автомобилю.</li> <li>2. Только трамваю А.</li> <li>3. Всем транспортным средствам.</li> <li>4. Никому.</li> </ol>
16		<p><b>Проезжая часть данной дороги имеет:</b></p> <ol style="list-style-type: none"> <li>1. Одну полосу для движения.</li> <li>2. Две полосы для движения.</li> <li>3. Три полосы для движения.</li> </ol>







<p>17</p>		<p><b>Эти знаки предупреждают Вас:</b></p> <ol style="list-style-type: none"> <li>1. О наличии через 500 м опасных поворотов.</li> <li>2. О том, что на расстоянии 150 - 300 м за дорожным знаком начнется участок дороги протяженностью 500 м с опасными поворотами.</li> <li>3. О том, что сразу за знаком начнется участок протяженностью 500 м с опасными поворотами.</li> </ol>
<p>18</p>		<p><b>Какой из знаков распространяет свое действие только на ту полосу, над которой он установлен?</b></p> <ol style="list-style-type: none"> <li>1. Только А.</li> <li>2. Только Б.</li> <li>3. Б и В.</li> </ol>
<p>19</p>		<p><b>Этот дорожный знак с желтым фоном информирует Вас о том, что:</b></p> <ol style="list-style-type: none"> <li>1. Дальнейшее движение возможно только по второй полосе.</li> <li>2. Дальнейшее движение возможно только по проезжей части встречного направления.</li> <li>3. Дальнейшее движение возможно только по другой дороге.</li> </ol>
<p>20</p>	<p><b>Что означает разметка в виде надписи «СТОП» на проезжей части?</b></p> <ol style="list-style-type: none"> <li>1. Предупреждает о приближении к стоп-линии перед регулируемым перекрестком.</li> <li>2. Предупреждает о приближении к стоп-линии и знаку «Движение без остановки запрещено».</li> <li>3. Предупреждает о приближении к знаку «Уступите дорогу».</li> </ol>	

21		<p><b>Каким транспортным средствам разрешено движение прямо?</b></p> <ol style="list-style-type: none"> <li>1. Только легковому и грузовому автомобилям.</li> <li>2. Только грузовому автомобилю.</li> <li>3. Только грузовому автомобилю, и автобусу.</li> <li>4. Всем транспортным средствам.</li> </ol>
22		<p><b>Вы намерены продолжить движение по главной дороге. Обязаны ли Вы при этом включить левые указатели поворота?</b></p> <ol style="list-style-type: none"> <li>1. Да.</li> <li>2. Да, только при наличии движущегося сзади транспортного средства.</li> <li>3. Нет.</li> </ol>
23		<p><b>Кто обязан уступить дорогу?</b></p> <ol style="list-style-type: none"> <li>1. Водитель грузового автомобиля.</li> <li>2. Водитель легкового автомобиля.</li> </ol>
24		<p><b>По какой траектории Вы можете выполнить разворот?</b></p> <ol style="list-style-type: none"> <li>1. Только по А.</li> <li>2. Только по Б.</li> <li>3. По любой.</li> </ol>
25	<p><b>По какой полосе проезжей части Вам разрешено движение в населенном пункте, если по техническим причинам Ваше транспортное средство не может развивать скорость более 40 км/ч?</b></p> <ol style="list-style-type: none"> <li>1. Только по крайней правой.</li> <li>2. Не далее второй полосы.</li> <li>3. По любой, кроме крайней левой.</li> </ol>	
26	<p><b>Какие действия запрещены в жилой зоне?</b></p> <ol style="list-style-type: none"> <li>1. Только сквозное движение.</li> <li>2. Только учебная езда.</li> <li>3. Только стоянка с работающим двигателем.</li> <li>4. Все вышеперечисленные действия.</li> </ol>	
27	<p><b>Какое расстояние должно быть обеспечено между буксирующим и буксируемым транспортными средствами при буксировке на жесткой сцепке?</b></p> <ol style="list-style-type: none"> <li>1. Не более 4 м.</li> <li>2. От 4 до 6 м.</li> </ol>	


	3. Правилами не регламентируется.
--	-----------------------------------


<b>28</b>	<b>В каком случае Вам разрешается эксплуатация транспортного средства?</b> 1. Загрязнены внешние световые приборы. 2. Нарушена регулировка фар. 3. На световых приборах используются рассеиватели, не соответствующие типу данного светового прибора. 4. Отсутствуют противотуманные фары.
<b>29</b>	<b>Что следует предпринять водителю для предотвращения опасных последствий заноса автомобиля при резком повороте рулевого колеса на скользкой дороге?</b> 1. Быстро, но плавно повернуть рулевое колесо в сторону заноса, затем опережающим воздействием на рулевое колесо выровнять траекторию движения автомобиля. 2. Выключить сцепление. 3. Нажать на педаль тормоза.
<b>30</b>	<b>Какой способ торможения позволит сохранить маневренность на скользкой дороге?</b> 1. С полной блокировкой колес. 2. Торможение двигателем без блокировки колес.

№ п/ п	<b>ВАРИАНТ 3</b>	
1		<p>Сколько проезжих частей имеет данная дорога?</p> <ol style="list-style-type: none"> <li>1. Одну.</li> <li>2. Две.</li> <li>3. Четыре.</li> </ol>
2	 <p style="text-align: center;">A                      Б                      В</p>	<p>Какие знаки распространяют свое действие только на период времени, когда покрытие проезжей части влажное?</p> <ol style="list-style-type: none"> <li>1. Только А.</li> <li>2. Только А и Б.</li> <li>3. Все.</li> </ol>
3		<p>Разрешена ли Вам стоянка в указанном месте?</p> <ol style="list-style-type: none"> <li>1. Разрешена.</li> <li>2. Разрешена, но только в светлое время суток.</li> <li>3. Запрещена.</li> </ol>
4		<p>По какой траектории Вам разрешено продолжить движение?</p> <ol style="list-style-type: none"> <li>1. Только по А.</li> <li>2. Только по А или В.</li> <li>3. По любой.</li> <li>4. По любой, кроме Б.</li> </ol>



5		<p><b>Такая вертикальная разметка на ограждении дороги предупреждает Вас:</b></p> <ol style="list-style-type: none"> <li>1. О приближении к железнодорожному проезду.</li> <li>2. О приближении к опасному пересечению.</li> <li>3. О движении по опасному участку дороги.</li> </ol>

6	<p><b>Разрешается ли Вам продолжить движение, если при включении желтого сигнала светофора после зеленого Вы можете остановиться перед перекрестком, только применив экстренное торможение?</b></p> <ol style="list-style-type: none"> <li>1. Разрешается.</li> <li>2. Разрешается, только если Вы намерены проехать перекресток в прямом направлении.</li> <li>3. Не разрешается.</li> </ol>	
---	---	--

7		<p><b>Такой сигнал рукой, подаваемый мотоциклистом, информирует Вас:</b></p> <ol style="list-style-type: none"> <li>1. О его намерении продолжить движение прямо.</li> <li>2. О его намерении повернуть направо.</li> <li>3. О его намерении снизить скорость, чтобы остановиться и уступить дорогу легковому автомобилю.</li> </ol>
---	--	--

8		<p><b>В каких направлениях Вы можете продолжить движение по второй полосе на легковом автомобиле?</b></p> <ol style="list-style-type: none"> <li>1. Только прямо.</li> <li>2. Только прямо и налево.</li> <li>3. Только прямо и направо.</li> <li>4. Прямо, налево и в обратном направлении.</li> </ol>
---	--	---

9		<p><b>Вам необходимо повернуть на примыкающую справа дорогу. Ваши действия?</b></p> <ol style="list-style-type: none"> <li>1. Не меняя полосы, снизить скорость, затем перестроиться на полосу торможения.</li> <li>2. Не меняя скорости, перестроиться на полосу торможения, снизить скорость, затем приступить к повороту.</li> <li>3. Возможны оба варианта действий.</li> </ol>
10		<p><b>С какой максимальной скоростью Вы можете продолжить движение на легковом автомобиле с прицепом?</b></p> <ol style="list-style-type: none"> <li>1. 50 км/ч.</li> <li>2. 60 км/ч.</li> <li>3. 70 км/ч.</li> <li>4. 80 км/ч.</li> <li>5. 90 км/ч.</li> </ol>


11		<p><b>Можете ли Вы после опережения грузового автомобиля продолжить движение по левой полосе?</b></p> <ol style="list-style-type: none"> <li>1. Да.</li> <li>2. Нет.</li> </ol>
12		<p><b>Кто из водителей нарушил правила</b></p>



		<p><b>стоянки?</b></p> <ol style="list-style-type: none"> <li>1. Только А.</li> <li>2. Только Б.</li> <li>3. Никто не нарушил.</li> </ol>
13		<p><b>Вы намерены развернуться. Ваши действия?</b></p> <ol style="list-style-type: none"> <li>1. Проедете перекресток первым.</li> <li>2. Произведете разворот, уступив дорогу легковому автомобилю.</li> </ol>
14		<p><b>Вы намерены проехать перекресток в прямом направлении. Кому следует уступить дорогу?</b></p> <ol style="list-style-type: none"> <li>1. Только трамваю.</li> <li>2. Только легковому автомобилю.</li> <li>3. Обоим транспортным средствам.</li> </ol>
15		<p><b>Вы намерены повернуть налево. Ваши действия?</b></p> <ol style="list-style-type: none"> <li>1. Проедете перекресток первым.</li> <li>2. Уступите дорогу только грузовому автомобилю с включенным проблесковым маячком.</li> <li>3. Уступите дорогу обоим</li> </ol>



		транспортным средствам.
--	--	-------------------------




16	<p><b>Что называется, разрешенной максимальной массой транспортного средства?</b></p> <ol style="list-style-type: none"> <li>1. Максимально допустимая для перевозки масса груза, установленная предприятием-изготовителем.</li> <li>2. Масса снаряженного транспортного средства без учета массы водителя, пассажиров и груза, установленная предприятием-изготовителем.</li> <li>3. Масса снаряженного транспортного средства с грузом, водителем и пассажирами, установленная предприятием-изготовителем в качестве максимально допустимой.</li> </ol>	
17		<p><b>В каких направлениях Вам разрешено продолжить движение на перекрестке?</b></p> <ol style="list-style-type: none"> <li>1. Только прямо.</li> <li>2. Прямо или в обратном направлении.</li> <li>3. Во всех направлениях.</li> </ol>
18	 <p style="text-align: center;"> <span data-bbox="456 1563 485 1599">А</span> <span data-bbox="746 1563 775 1599">Б</span> <span data-bbox="1027 1563 1056 1599">В</span> </p>	<p><b>Какие знаки разрешают Вам проезд на автомобиле к месту проживания?</b></p> <ol style="list-style-type: none"> <li>1. Только А.</li> <li>2. Только В.</li> <li>3. Только А и В.</li> <li>4. Все.</li> </ol>
19		<p><b>Что обозначают эти дорожные знаки?</b></p> <ol style="list-style-type: none"> <li>1. Место для стоянки только автобусов.</li> <li>2. Место для стоянки автобусов и троллейбусов.</li> <li>3. Место для стоянки транспортных средств, где для дальнейшего</li> </ol>


		<p>движения можно воспользоваться маршрутными транспортными средствами- автобусом или троллейбусом.</p>
20		<p><b>Что обозначает разметка в виде треугольника на полосе движения?</b></p> <ol style="list-style-type: none"> <li>1. Вы въезжаете на опасный участок дороги.</li> <li>2. Предупреждает о приближении к месту, где нужно уступить дорогу.</li> <li>3. Показывает место, где необходимо остановиться.</li> </ol>

21	<p>Разрешается ли Вам продолжить движение, если регулировщик поднял руку вверх после того, как Вы въехали на перекресток?</p> <ol style="list-style-type: none"> <li>1. Не разрешается.</li> <li>2. Разрешается, только если Вы поворачиваете направо.</li> <li>3. Разрешается.</li> </ol>	
22		<p><b>Вы намерены продолжить движение по главной дороге. Обязаны ли Вы включить левые указатели поворота?</b></p> <ol style="list-style-type: none"> <li>1. Да.</li> <li>2. Обязаны, если с других направлений приближаются транспортные средства.</li> <li>3. Нет.</li> </ol>
23		<p><b>Кому Вы должны уступить дорогу при повороте во двор?</b></p> <ol style="list-style-type: none"> <li>1. Только встречному автомобилю.</li> <li>2. Встречному</li> </ol>

		автомобилю и пешеходам. 3. Никому.
24		<b>Разрешено ли Вам выполнить разворот на данном перекрестке?</b>  1. Да. 2. Нет.
25		<b>С какой максимальной скоростью Вы можете продолжить движение на легковом автомобиле?</b>  1. 70 км/ч. 2. 90 км/ч. 3. 110 км/ч

<p>2 6</p>		<p><b>Разрешено ли Вам проехать железнодорожный переезд?</b></p> <ol style="list-style-type: none"> <li>1. Да, так как дежурный по переезду запрещает движение только встречному автомобилю.</li> <li>2. Да, если отсутствует приближающийся поезд.</li> <li>3. Нет.</li> </ol>
<p>2 7</p>	<p><b>В каких случаях разрешено применять звуковые сигналы в населенных пунктах?</b></p> <ol style="list-style-type: none"> <li>1. Только для предупреждения о намерении произвести обгон.</li> <li>2. Только для предотвращения дорожно-транспортного происшествия.</li> <li>3. В обоих перечисленных случаях.</li> </ol>	
<p>2 8</p>	<p><b>При каком значении суммарного люфта в рулевом управлении допускается эксплуатация легкового автомобиля?</b></p> <ol style="list-style-type: none"> <li>1. Не более 10 градусов.</li> <li>2. Не более 20 градусов.</li> <li>3. Не более 25 градусов.</li> </ol>	
<p>2 9</p>	<p><b>Вероятность возникновения аварийной ситуации при движении в плотном транспортном потоке будет меньше, если скорость Вашего транспортного средства:</b></p> <ol style="list-style-type: none"> <li>1. Значительно меньше средней скорости потока.</li> <li>2. Значительно больше средней скорости потока.</li> <li>3. Равна средней скорости потока.</li> </ol>	
<p>3 0</p>	<p><b>При движении в условиях тумана расстояние до предметов представляется:</b></p> <ol style="list-style-type: none"> <li>1. Большим, чем в действительности.</li> <li>2. Меньшим, чем в действительности.</li> <li>3. Соответствующим действительности.</li> </ol>	

№ п/ п	<b>ВАРИАНТ 4</b>	
1	<p><b>Можете ли Вы, будучи владельцем мотоцикла, передавать управление этим транспортным средством в своем присутствии другому лицу, имея при этом соответствующий страховой полис?</b></p> <ol style="list-style-type: none"> <li>1. Можете при наличии у этого лица водительского удостоверения на право управления транспортным средством категории «А».</li> <li>2. Можете при наличии у этого лица водительского удостоверения на право управления транспортным средством категории «В».</li> <li>3. Не можете.</li> </ol>	
2		<p><b>О чем информируют Вас эти дорожные знаки?</b></p> <ol style="list-style-type: none"> <li>1. О приближении к перекрестку, где установлен знак «Уступите дорогу».</li> <li>2. О приближении к перекрестку, где установлен знак «Движение без остановки запрещено».</li> <li>3. О приближении к таможне.</li> </ol>
3	 <p style="text-align: center;"> <span data-bbox="453 1563 485 1599">А</span> <span data-bbox="660 1563 692 1599">Б</span> <span data-bbox="868 1563 900 1599">В</span> <span data-bbox="1091 1563 1123 1599">Г</span> </p>	<p><b>Разрешено ли Вам произвести остановку в указанном месте?</b></p> <ol style="list-style-type: none"> <li>1. Да.</li> <li>2. Нет.</li> </ol>
4		<p><b>Действие каких знаков распространяется только до ближайшего по ходу движения перекрестка?</b></p> <ol style="list-style-type: none"> <li>1. А и В.</li> <li>2. Б и Г.</li> <li>3. В и Г.</li> </ol>
5		<p><b>Что обозначают прерывистые линии разметки</b></p>

		<p><b>на перекрестке?</b></p> <ol style="list-style-type: none"> <li>1. Обязательное направление движения на перекрестке.</li> <li>2. Границы полос движения в пределах перекрестка</li> </ol>
6		<p><b>В каких направлениях Вам разрешено движение?</b></p> <ol style="list-style-type: none"> <li>1. Только прямо.</li> <li>2. Только прямо и направо.</li> <li>3. Только прямо, налево и в обратном направлении.</li> <li>4. В любом.</li> </ol>
7	<p><b>Когда Вы обязаны выключить левые указатели поворота, выполняя обгон?</b></p> <ol style="list-style-type: none"> <li>1. Сразу же после перестроения на левую полосу.</li> <li>2. После опережения обгоняемого транспортного средства.</li> <li>3. По своему усмотрению.</li> </ol>	
8		<p><b>Обязаны ли Вы, двигаясь по правой полосе, уступить дорогу водителю автомобиля, который намерен перестроиться на Вашу полосу?</b></p> <ol style="list-style-type: none"> <li>1. Обязаны, если водитель завершает обгон.</li> <li>2. Обязаны.</li> <li>3. Не обязаны.</li> </ol>
9		<p><b>Разрешен ли Вам разворот на указанном участке дороги?</b></p> <ol style="list-style-type: none"> <li>1. Разрешен.</li> <li>2. Разрешен только при видимости дороги более 100 м.</li> <li>3. Не разрешен.</li> </ol>

10



**По какой траектории следует двигаться, поворачивая налево?**

1. Только по А.
2. Только по Б.
3. По любой.

11

**Что обязаны сделать в первую очередь водители, причастные к дорожно-транспортному происшествию?**

1. Освободить проезжую часть.
2. Остановиться, включить аварийную сигнализацию и выставить знак аварийной остановки.
3. Сообщить о случившемся в полицию.

12



А



Б




В

**В чем особенность скоростного режима на этом участке дороги?**

1. Минимальная допустимая скорость движения на этой дороге - 50 км/ч.
2. Рекомендуемая скорость движения на этой дороге - 50 км/ч.
3. Минимальная допустимая скорость движения по левой полосе - 50 км/ч.

13



**Какие знаки запрещают поворот налево?**

1. Только А.
2. Только А и Б.
3. Только А и В.
4. Все.

14



**Разрешено ли Вам повернуть направо на этом перекрестке?**

1. Да.
2. Нет.





15







**Разрешен ли Вам обгон?**

1. Разрешен.
2. Разрешен, если скорость грузового автомобиля менее 30 км/ч.
3. Не разрешен.



16		<p><b>Разрешено ли Вам движение?</b></p> <ol style="list-style-type: none"> <li>1. Разрешено только направо.</li> <li>2. Запрещено.</li> </ol>
17		<p><b>Водитель легкового автомобиля должен выключить левые указатели поворота:</b></p> <ol style="list-style-type: none"> <li>1. Сразу же после перестроения на левую полосу.</li> <li>2. Только после опережения грузового автомобиля.</li> <li>3. Только после возвращения на правую полосу.</li> </ol>
18		<p><b>По какой траектории Правила разрешают Вам произвести поворот налево?</b></p> <ol style="list-style-type: none"> <li>1. Только по А.</li> <li>2. Только по Б.</li> <li>3. По любой.</li> </ol>
19	<p><b>Если траектории движения транспортных средств пересекаются, а очередность проезда не оговорена Правилами, Вы должны:</b></p> <ol style="list-style-type: none"> <li>1. Уступить дорогу транспортному средству, приближающемуся справа.</li> <li>2. Уступить дорогу транспортному средству, приближающемуся слева.</li> </ol>	
20		<p><b>По каким полосам Правила разрешают Вам движение на этой дороге?</b></p> <ol style="list-style-type: none"> <li>1. По любой.</li> <li>2. По любой, кроме левой.</li> <li>3. Только по правой.</li> </ol>

21		<p><b>Должны ли Вы уступить дорогу встречному автомобилю?</b></p> <ol style="list-style-type: none"> <li>1. Да.</li> <li>2. Нет.</li> </ol>
22		<p><b>Разрешено ли Вам поставить автомобиль на стоянку в указанном месте?</b></p> <ol style="list-style-type: none"> <li>1. Разрешено.</li> <li>2. Разрешено, если при этом не будут созданы помехи для движения маршрутных транспортных средств.</li> <li>3. Запрещено.</li> </ol>
23		<p><b>Вы намерены повернуть налево. Ваши действия?</b></p> <ol style="list-style-type: none"> <li>1. Уступите дорогу трамваю.</li> <li>2. Проедете перекресток первым.</li> <li>3. Дождетесь разрешающего сигнала специального светофора и только после этого повернете.</li> </ol>
24		<p><b>Вы намерены повернуть налево. Ваши действия?</b></p> <ol style="list-style-type: none"> <li>1. Уступите дорогу пешеходам.</li> <li>2. Проедете перекресток, не уступая дорогу пешеходам.</li> </ol>
25		<p><b>Вы намерены</b></p>

		<p>проехать перекресток в прямом направлении.  <b>Ваши действия?</b>  1. Проедете перекресток первым.  2. Уступите дорогу автомобилю с включенными проблесковым маячком и специальным звуковым сигналом.</p>
26	<p><b>В каком случае Вы можете продолжить движение, приближаясь к остановившемуся транспортному средству, закрывающему видимость нерегулируемого пешеходного перехода?</b></p> <ol style="list-style-type: none"> <li>1. Только после подачи звукового сигнала.</li> <li>2. Только после остановки перед пешеходным переходом.</li> <li>3. Только убедившись, что перед остановившимся транспортным средством нет пешеходов.</li> </ol>	
27	<p><b>Какие внешние световые приборы должны быть включены в светлое время суток на транспортном средстве, перевозящем крупногабаритные или тяжеловесные грузы?</b></p> <ol style="list-style-type: none"> <li>1. Габаритные огни.</li> <li>2. Ближний свет фар или противотуманные фары.</li> <li>3. Ближний или дальний свет фар.</li> </ol>	

28	<p><b>Вы имеете право эксплуатировать легковой автомобиль при отсутствии:</b></p> <ol style="list-style-type: none"> <li>1. Аптечки.</li> <li>2. Огнетушителя.</li> <li>3. Знака аварийной остановки.</li> <li>4. Противооткатных упоров.</li> </ol>	
29		<p>Для обеспечения безопасности при остановке на подъеме (спуске) водителю следует повернуть передние колеса. Водители каких транспортных средств правильно выполнили это требование при отсутствии тротуара?</p> <ol style="list-style-type: none"> <li>1. А и Г.</li> <li>2. Б и В.</li> <li>3. А и В.</li> <li>4. Б и Г.</li> </ol>
30	<p><b>Каковы типичные признаки наступившего утомления водителя?</b></p> <ol style="list-style-type: none"> <li>1. Сонливость, вялость, притупление внимания.</li> <li>2. Возбужденность, раздражительность.</li> <li>3. Головокружение, резь в глазах, повышенная потливость.</li> </ol>	

## **КРИТЕРИИ ОЦЕНКИ ЗНАНИЙ И УМЕНИЙ ОБУЧАЮЩИХСЯ, УРОВНЯ СФОРМИРОВАННОСТИ ОБЩИХ И ПРОФЕССИОНАЛЬНЫХ КОМПЕТЕНЦИЙ**

### **Критерии оценивания устного ответа обучающихся в 5-балльной системе**

- 28-30 правильных ответов – «отлично»
- 22-27 правильных ответов – «хорошо»
- 16-21 правильных ответов – «удовлетворительно»
- менее 15 правильных ответов – «неудовлетворительно»