

ПРОФЕССИОНАЛЬНАЯ ОБРАЗОВАТЕЛЬНАЯ ОРГАНИЗАЦИЯ
АВТОНОМНАЯ НЕКОММЕРЧЕСКАЯ ОРГАНИЗАЦИЯ
«КОЛЛЕДЖ КУЛЬТУРЫ И СПОРТА»

ЗАДАНИЯ
для проведения «среза» зданий

ОП.06 Гидравлика, гидрология, гидрометрия

Специальность: 08.02.02 Строительство и эксплуатация
инженерных сооружений

Москва, 2024

ПОЯСНИТЕЛЬНАЯ ЗАПИСКА

I. ОБЩИЕ ПОЛОЖЕНИЯ

1.1. «Срез» знаний обучающихся проводится с целью определения соответствия результатов освоения обучающимися образовательной программы среднего профессионального образования по дисциплине ОП.06 Гидравлика, гидрология, гидрометрия соответствующим требованиям ФГОС СПО по специальности 08.02.02 Строительство и эксплуатация инженерных сооружений.

Проверка определяет уровень освоения обучающимися учебного материала, предусмотренного учебным планом, и охватывает основные разделы и темы по данной дисциплине, установленные Федеральным государственным образовательным стандартом СПО.

1.2. Цели проведения контрольной проверки по дисциплине ОП.06 Гидравлика, гидрология, гидрометрия:

1.2.1. Проверка уровня сформированности общих и профессиональных компетенций согласно ФГОС СПО по специальности 08.02.02 Строительство и эксплуатация инженерных сооружений:

В результате освоения учебной дисциплины обучающийся должен

уметь:

- определять расчетные характеристики гидравлических водотоков, необходимых для проектирования инженерных сооружений;
- выполнять различные гидрометрические расчеты;
- применять гидрометрические приборы;

знать:

- движение воды в открытых руслах и трубопроводах;
- законы равновесия и движения жидкостей;
- основы гидрологии суши и речной гидрометрии;
- устройство и принцип действия гидрометрических приборов

1.3. Контрольный «срез» знаний проводится в виде теста в первые дни ноября.

II. ТЕСТ ПО ДИСЦИПЛИНЕ
Гидравлика, гидрология, гидрометрия

1. Как называются разделы, на которые делится гидравлика?

- а) гидростатика и гидромеханика;
- б) гидромеханика и гидродинамика;
- в) гидростатика и гидродинамика;
- г) гидрология и гидромеханика.

2. Раздел гидравлики, в котором рассматриваются законы равновесия жидкости называется

- а) гидростатика;
- б) гидродинамика;
- в) гидромеханика;
- г) гидравлическая теория равновесия.

3. Что такое жидкость?

- а) физическое вещество, способное заполнять пустоты;
- б) физическое вещество, способное изменять форму под действием сил;
- в) физическое вещество, способное изменять свой объем;
- г) физическое вещество, способное течь.

4. Гидростатическое давление - это давление присутствующее

- а) в движущейся жидкости;
- б) в покоящейся жидкости;
- в) в жидкости, находящейся под избыточным давлением;
- г) в жидкости, помещенной в резервуар.

5. Среднее гидростатическое давление, действующее на дно резервуара равно

- а) произведению глубины резервуара на площадь его дна и плотность;
- б) произведению веса жидкости на глубину резервуара;
- в) отношению объема жидкости к ее плоскости;
- г) отношению веса жидкости к площади дна резервуара.

6. Первое свойство гидростатического давления гласит

- а) в любой точке жидкости гидростатическое давление перпендикулярно площадке касательной к выделенному объему и действует от рассматриваемого объема;
- б) в любой точке жидкости гидростатическое давление перпендикулярно площадке касательной к выделенному объему и действует внутрь рассматриваемого объема;
- в) в каждой точке жидкости гидростатическое давление действует параллельно площадке касательной к выделенному объему и направлено произвольно;

г) гидростатическое давление неизменно во всех направлениях и всегда перпендикулярно в точке его приложения к выделенному объему.

7. Второе свойство гидростатического давления гласит

- а) гидростатическое давление постоянно и всегда перпендикулярно к стенкам резервуара;
- б) гидростатическое давление изменяется при изменении местоположения точки;
- в) гидростатическое давление неизменно в горизонтальной плоскости;
- г) гидростатическое давление неизменно во всех направлениях.

8. Третье свойство гидростатического давления гласит

- а) гидростатическое давление в любой точке не зависит от ее координат в пространстве;
- б) гидростатическое давление в точке зависит от ее координат в пространстве;
- в) гидростатическое давление зависит от плотности жидкости;
- г) гидростатическое давление всегда превышает давление, действующее на свободную поверхность жидкости.

9. Уравнение, позволяющее найти гидростатическое давление в любой точке рассматриваемого объема называется

- а) основным уравнением гидростатики;
- б) основным уравнением гидродинамики;
- в) основным уравнением гидромеханики;
- г) основным уравнением гидродинамической теории.

10. Основное уравнение гидростатики позволяет

- а) определять давление, действующее на свободную поверхность;
- б) определять давление на дне резервуара;
- в) определять давление в любой точке рассматриваемого объема;
- г) определять давление, действующее на погруженное в жидкость тело.

11. Среднее гидростатическое давление, действующее на дно резервуара определяется по формуле

а) $P_{cp} = \frac{G}{V}$; б) $P_{cp} = \frac{V}{P_{атм}}$; в) $P_{cp} = \frac{\gamma V}{G}$; г) $P_{cp} = \frac{P}{S}$.

12. Основное уравнение гидростатического давления записывается в виде

а) $P = P_{атм} + \rho gh$; б) $P = P_0 - \rho gh$;
в) $P = P_0 + \rho gh$; г) $P = P_0 + \rho \gamma h$.

13. Основное уравнение гидростатики определяется

- а) произведением давления газа над свободной поверхностью к площади свободной поверхности;
- б) разностью давления на внешней поверхности и на дне сосуда;
- в) суммой давления на внешней поверхности жидкости и давления, обусловленного весом вышележащих слоев;
- г) отношением рассматриваемого объема жидкости к плотности и глубине погружения точки.

14. Чему равно гидростатическое давление при глубине погружения точки, равной нулю

- а) давлению над свободной поверхностью;
- б) произведению объема жидкости на ее плотность;
- в) разности давлений на дне резервуара и на его поверхности;
- г) произведению плотности жидкости на ее удельный вес.

15. "Давление, приложенное к внешней поверхности жидкости, передается всем точкам этой жидкости по всем направлениям одинаково"

- а) это - закон Ньютона;
- б) это - закон Паскаля;
- в) это - закон Никурадзе;
- г) это - закон Жуковского.

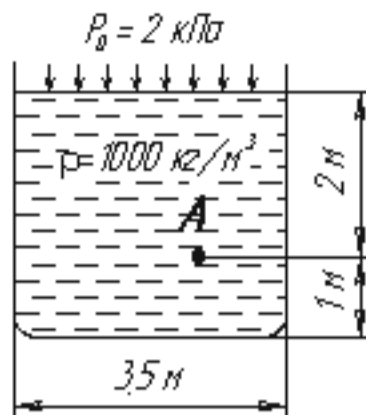
16. Закон Паскаля гласит

- а) давление, приложенное к внешней поверхности жидкости, передается всем точкам этой жидкости по всем направлениям одинаково;
- б) давление, приложенное к внешней поверхности жидкости, передается всем точкам этой жидкости по всем направлениям согласно основному уравнению гидростатики;
- в) давление, приложенное к внешней поверхности жидкости, увеличивается по мере удаления от свободной поверхности;
- г) давление, приложенное к внешней поверхности жидкости равно сумме давлений, приложенных с других сторон рассматриваемого объема жидкости.

17. Поверхность уровня - это

- а) поверхность, во всех точках которой давление изменяется по одинаковому закону;
- б) поверхность, во всех точках которой давление одинаково;
- в) поверхность, во всех точках которой давление увеличивается прямо пропорционально удалению от свободной поверхности;
- г) свободная поверхность, образующаяся на границе раздела воздушной и жидкой сред при относительном покое жидкости.

18. Чему равно гидростатическое давление в точке А ?



- а) 19,62 кПа;
- б) 31,43 кПа;
- в) 21,62 кПа;
- г) 103 кПа.

19. Как приложена равнодействующая гидростатического давления относительно центра тяжести прямоугольной боковой стенки резервуара?

- а) ниже;
- б) выше;
- в) совпадает с центром тяжести;
- г) смещена в сторону.

20. Равнодействующая гидростатического давления в резервуарах с плоской наклонной стенкой равна

- а) $F = \gamma \rho S$;
- б) $F = \frac{\gamma h S}{2} \cos \alpha$;
- в) $F = \rho S h_c$;
- г) $F = \frac{\gamma H}{2} S$.

21. Точка приложения равнодействующей гидростатического давления лежит ниже центра тяжести плоской боковой поверхности резервуара на расстоянии

- а) $l = \frac{J_{Ax}}{l_{y.m.} S}$;
- б) $l = J_{Ax} \frac{l_{y.m.}}{S}$;
- в) $l = \frac{S}{J_{Ax} l_{y.m.}}$;
- г) $l = S J_{Ax} l_{y.m.}$.

22. На какие виды делятся длинные трубопроводы?

- а) на параллельные и последовательные;
- б) на простые и сложные;
- в) на прямолинейные и криволинейные;
- г) на разветвленные и составные.

23. Что такое длинный трубопровод?

- а) трубопровод, длина которого превышает значение $100d$;
- б) трубопровод, в котором линейные потери напора не превышают 5...10% местных потерь напора;
- в) трубопровод, в котором местные потери напора меньше 5...10% потерь напора по длине;
- г) трубопровод постоянного сечения с местными сопротивлениями.

24. Равнодействующая гидростатического давления на цилиндрическую боковую поверхность равна

- а) $F = \sqrt{F_x^2 + F_z^2 + F_y^2}$;
- б) $F = \sqrt{F_x^2 - F_z^2 - F_y^2}$;
- в) $F = \sqrt[3]{F_x^3 + F_z^3 + F_y^3}$;
- г) $F = \sqrt[3]{(F_x + F_z + F_y)^3}$.

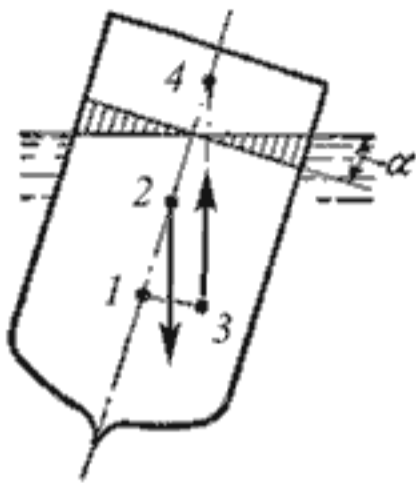
25. Сила, действующая со стороны жидкости на погруженное в нее тело равна

- а) $P_{выт} = \rho_{тела} g V_{тела}$;
- б) $P_{выт} = \rho_{ж} g \gamma$;
- в) $P_{выт} = \rho_{ж} g h_{погр}$;
- г) $P_{выт} = \rho_{ж} g V_{погр}$.

26. Гидравлическое сопротивление это

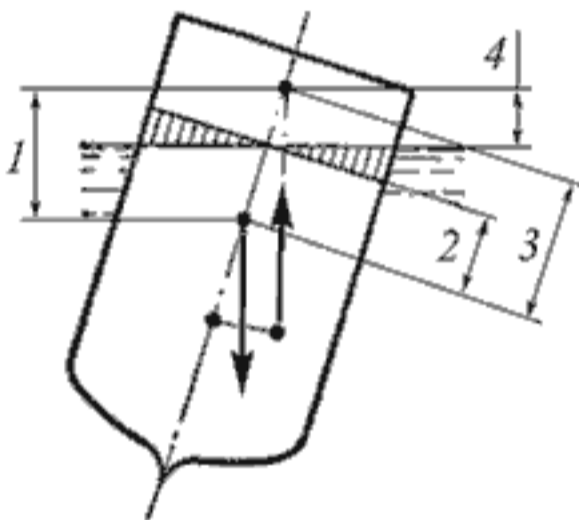
- а) сопротивление жидкости к изменению формы своего русла;
- б) сопротивление, препятствующее свободному прохождению жидкости;
- в) сопротивление трубопровода, которое сопровождается потерями энергии жидкости;
- г) сопротивление, при котором падает скорость движения жидкости по трубопроводу.

27. Укажите на рисунке местоположение центра водоизмещения



- а) 1;
- б) 2;
- в) 3;
- г) 4.

28. Укажите на рисунке метацентрическую высоту



- а) 1;
- б) 2;
- в) 3;
- г) 4.

29. Что такое короткий трубопровод?

- а) трубопровод, в котором линейные потери напора не превышают 5...10% местных потерь напора;
- б) трубопровод, в котором местные потери напора превышают 5...10% потерь напора по длине;
- в) трубопровод, длина которого не превышает значения $100d$;
- г) трубопровод постоянного сечения, не имеющий местных сопротивлений.

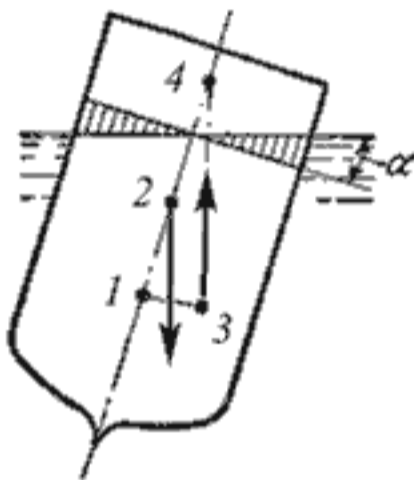
30. Вес жидкости, взятой в объеме погруженной части судна называется

- а) погруженным объемом;
- б) водоизмещением;
- в) вытесненным объемом;
- г) водопоглощением.

31. Водоизмещение - это

- а) объем жидкости, вытесняемый судном при полном погружении;
- б) вес жидкости, взятой в объеме судна;
- в) максимальный объем жидкости, вытесняемый плавающим судном;
- г) вес жидкости, взятой в объеме погруженной части судна.

32. Укажите на рисунке местоположение метацентра



- а) 1;
- б) 2;
- в) 3;
- г) 4.

33. Если судно возвращается в исходное положение после действия опрокидывающей силы, метацентрическая высота

- а) имеет положительное значение;
- б) имеет отрицательное значение;
- в) равна нулю;
- г) увеличивается в процессе возвращения судна в исходное положение.

34. Уравнение Бернулли для идеальной жидкости имеет вид

а) $z_1 + \frac{P_1}{2g} + \frac{v_1^2}{\rho g} = z_2 + \frac{P_2}{2g} + \frac{v_2^2}{\rho g}$

б) $z_1 + \frac{P_2}{\rho g} + \frac{v_1^2}{2g} = z_2 + \frac{P_1}{\rho g} + \frac{v_2^2}{2g} + \sum h;$

в) $z_1 + \frac{P_1}{\rho g} + \frac{v_1^2}{2g} = z_2 + \frac{P_2}{\rho g} + \frac{v_2^2}{2g};$

г) $z_1 + \frac{v_1}{\rho g} + \alpha_1 \frac{P_1^2}{2g} = z_2 + \frac{v_2}{\rho g} + \alpha_2 \frac{P_2^2}{2g}.$

35. Если судно после воздействия опрокидывающей силы не возвращается в исходное положение и не продолжает опрокидываться, то метацентрическая высота

- а) имеет положительное значение;
- б) имеет отрицательное значение;
- в) равна нулю;
- г) уменьшается в процессе возвращения судна в исходное положение.

36. Движение, при котором скорость и давление изменяются не только от координат пространства, но и от времени называется

- а) ламинарным;
- б) стационарным;
- в) неустановившимся;
- г) турбулентным.

37. Проведенная через объем жидкости поверхность, во всех точках которой давление одинаково, называется

- а) свободной поверхностью;
- б) поверхностью уровня;
- в) поверхностью покоя;
- г) статической поверхностью.

38. Относительным покоем жидкости называется

- а) равновесие жидкости при постоянном значении действующих на нее сил тяжести и инерции;
- б) равновесие жидкости при переменном значении действующих на нее сил тяжести и инерции;
- в) равновесие жидкости при неизменной силе тяжести и изменяющейся силе инерции;
- г) равновесие жидкости только при неизменной силе тяжести.

39. Площадь поперечного сечения потока, перпендикулярная направлению движения называется

- а) открытым сечением;
- б) живым сечением;
- в) полным сечением;
- г) площадь расхода.

40. Если при движении жидкости в данной точке русла давление и скорость не изменяются, то такое движение называется

- а) установившемся;
- б) неустановившемся;
- в) турбулентным установившимся;
- г) ламинарным неустановившемся.

III. КРИТЕРИИ ОЦЕНКИ ЗНАНИЙ И УМЕНИЙ ОБУЧАЮЩИХСЯ, УРОВНЯ СФОРМИРОВАННОСТИ ОБЩИХ И ПРОФЕССИОНАЛЬНЫХ КОМПЕТЕНЦИЙ

За каждое задание обучающийся может получить от 0 до 1 баллов.

0 баллов ставится за не правильный ответ.

1 балл ставится за правильный ответ.

Полученные баллы суммируются.

ОЦЕНКА «5»

Ставится в том случае, если обучающийся набрал 33 – 40 баллов.

ОЦЕНКА «4»

Ставится в том случае, если обучающийся набрал 27 – 32 баллов.

ОЦЕНКА «3»

Ставится в том случае, если обучающийся набрал 20 – 26 баллов.

ОЦЕНКА «2»

Ставится в том случае, если обучающийся набрал 0 – 19 баллов.